

MATEMATIKA

Zadaci za općinsko-gradsko natjecanje učenika
srednjih škola Republike Hrvatske

1. ožujka 2001.
2002.

I. razred

1. Neka su a , b i c međusobno različiti realni brojevi, od kojih nijedan nije jednak nuli, i za koje je $a + b + c = 0$. Dokažite da vrijedi:

a) $\frac{a^2}{bc} + \frac{b^2}{ca} + \frac{c^2}{ab} = 3$,

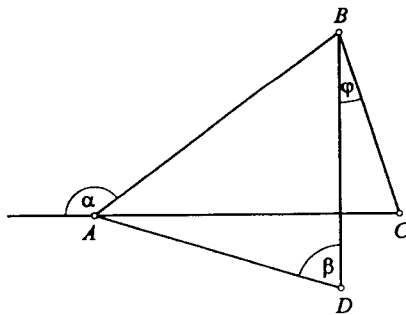
b) $\left(\frac{a-b}{c} + \frac{b-c}{a} + \frac{c-a}{b}\right) \left(\frac{c}{a-b} + \frac{a}{b-c} + \frac{b}{c-a}\right) = 9$.

2. Riješite sistem jednadžbi

$$|x + y - 4| = 5,$$

$$|x - 3| + |y - 1| = 5.$$

3. Dane su četiri točke A , B , C i D u ravnini tako da je $|AB| = |AC|$ i $|AD| = |BD|$. Ako za kutove α i β označene na slici vrijedi $\alpha + \beta = 200^\circ$, odredite kut $\varphi = \sphericalangle CBD$.



4. Ako je n neparan prirodan broj, dokažite da je broj $n^3 + 3n^2 - n - 3$ djeljiv s 48.

Rješenja zadataka za I. razred.

Svaki točno riješen zadatak vrijedi 25 bodova.

1. Prvo rješenje. a)

$$a + b + c = 0 \Rightarrow c = -(a + b) \Rightarrow$$

$$\begin{aligned} \frac{a^2}{bc} + \frac{b^2}{ca} + \frac{c^2}{ab} &= \frac{a^2}{-b(a+b)} + \frac{b^2}{-(a+b)a} + \frac{(a+b)^2}{ab} \\ &= \frac{-a^3 - b^3 + (a+b)^3}{ab(a+b)} = \frac{(a+b)(-a^2 + ab - b^2 + a^2 + 2ab + b^2)}{ab(a+b)} \\ &= \frac{3ab}{ab} = 3. \end{aligned}$$

10 bodova

b)

$$\begin{aligned} &\left(\frac{a-b}{c} + \frac{b-c}{a} + \frac{c-a}{b}\right) \left(\frac{c}{a-b} + \frac{a}{b-c} + \frac{b}{c-a}\right) = \\ &= \left(\frac{a-b}{-a-b} + \frac{b+a+b}{a} + \frac{-a-b-a}{b}\right) \left(\frac{-a-b}{a-b} + \frac{a}{b+a+b} + \frac{b}{-a-b-a}\right) \\ &= \left(-\frac{a-b}{a+b} + \frac{a+2b}{a} - \frac{2a+b}{b}\right) \left(-\frac{a+b}{a-b} + \frac{a}{a+2b} - \frac{b}{2a+b}\right) \\ &= \left(-\frac{a-b}{a+b} - \frac{-ab - 2b^2 + 2a^2 + ab}{ab}\right) \left(-\frac{a+b}{a-b} + \frac{2a^2 + ab - ab - 2b^2}{(a+2b)(2a+b)}\right) \\ &= \left(-\frac{a-b}{a+b} - \frac{2(a^2 - b^2)}{ab}\right) \left(-\frac{a+b}{a-b} + \frac{2(a^2 - b^2)}{(a+2b)(2a+b)}\right) \\ &= -(a-b) \frac{ab + 2(a+b)^2}{(a+b)ab} \cdot (a+b) \frac{2(a-b)^2 - (a+2b)(2a+b)}{(a+2b)(2a+b)(a-b)} \\ &= -\frac{2a^2 + 5ab + 2b^2}{ab} \cdot \frac{2a^2 - 4ab + 2b^2 - 2a^2 - ab - 4ab - 2b^2}{2a^2 + 5ab + 2b^2} \\ &= -\frac{-9ab}{ab} = 9. \end{aligned}$$

15 bodova

Drugo rješenje. a) Iz $a + b + c = 0$ dobivamo:

$$a^2 = (b + c)^2, \quad b^2 = (c + a)^2, \quad c^2 = (a + b)^2.$$

Zato je:

$$\begin{aligned} & \frac{a^2}{bc} + \frac{b^2}{ca} + \frac{c^2}{ab} \\ = & \frac{b^2 + c^2 + 2bc}{bc} + \frac{c^2 + a^2 + 2ca}{ca} + \frac{a^2 + b^2 + 2ab}{ab} \\ = & \frac{b}{c} + \frac{c}{b} + 2 + \frac{c}{a} + \frac{a}{c} + 2 + \frac{a}{b} + \frac{b}{a} + 2 \\ = & 6 + \frac{b+c}{a} + \frac{c+a}{b} + \frac{a+b}{c} \\ = & 6 + \frac{-a}{a} + \frac{-b}{b} + \frac{-c}{c} = 3. \end{aligned}$$

10 bodova

b)

$$\begin{aligned} & \left(\frac{a-b}{c} + \frac{b-c}{a} + \frac{c-a}{b} \right) \left(\frac{c}{a-b} + \frac{a}{b-c} + \frac{b}{c-a} \right) \\ = & 3 + \frac{c}{a-b} \left(\frac{b-c}{a} + \frac{c-a}{b} \right) + \frac{a}{b-c} \left(\frac{a-b}{c} + \frac{c-a}{b} \right) \\ & + \frac{b}{c-a} \left(\frac{a-b}{c} + \frac{b-c}{a} \right) \\ = & 3 + \frac{c}{a-b} \cdot \frac{b^2 - bc + ac - a^2}{ab} + \frac{a}{b-c} \cdot \frac{ab - b^2 + c^2 - ac}{bc} \\ & + \frac{b}{c-a} \cdot \frac{a^2 - ab + bc - c^2}{ca} \\ = & 3 + \frac{c}{a-b} \cdot \frac{(b-a)(b+a-c)}{ab} + \frac{a}{b-c} \cdot \frac{(c-b)(c+b-a)}{bc} \\ & + \frac{b}{c-a} \cdot \frac{(a-c)(a+c-b)}{ca} \\ = & 3 + \frac{c(c-a-b)}{ab} + \frac{a(a-b-c)}{bc} + \frac{b(b-a-c)}{ca}. \end{aligned}$$

Kako je $c - a - b = 2c$, $a - b - c = 2a$, $b - a - c = 2b$, iz a) posljednji izraz je jednak

$$3 + 2 \left(\frac{c^2}{ab} + \frac{a^2}{bc} + \frac{b^2}{ca} \right) = 3 + 2 \cdot 3 = 9.$$

15 bodova

Treće rješenje b)

Uvedimo oznake $C = \frac{a-b}{c} + \frac{b-c}{a} + \frac{c-a}{b}$ i $D = \frac{c}{a-b} + \frac{a}{b-c} + \frac{b}{c-a}$.

$$\begin{aligned} C &= (a-b) \left(\frac{1}{c} - \frac{1}{a} \right) + (c-a) \left(\frac{1}{b} - \frac{1}{a} \right) \\ &= \frac{(a-b)(a-c)}{ca} + \frac{(c-a)(a-b)}{ab} \\ &= (a-b)(c-a) \left(\frac{1}{ab} - \frac{1}{ca} \right) \\ &= -\frac{(a-b)(b-c)(c-a)}{abc}. \end{aligned}$$

$$\begin{aligned} D &= \frac{-a-b}{a-b} + \frac{a}{b-c} + \frac{b}{c-a} \\ &= a \left(\frac{1}{b-c} - \frac{1}{a-b} \right) + b \left(\frac{1}{c-a} - \frac{1}{a-b} \right) \\ &= \frac{a(a-2b+c)}{(b-c)(a-b)} + \frac{b(2a-b-c)}{(c-a)(a-b)} \\ &= \frac{-3ab}{(b-c)(a-b)} + \frac{3ab}{(c-a)(a-b)} \\ &= \frac{-3ab(c-a-b+c)}{(a-b)(b-c)(c-a)} \\ &= -\frac{9abc}{(a-b)(b-c)(c-a)}. \end{aligned}$$

Odavde slijedi $C \cdot D = 9$.

15 bodova

Napomena. Moguće je i djelomično bodovanje.

2. *Prvo rješenje.* Dani sistem jednažbi se može zapisati u obliku

$$\begin{aligned} |x + y - 4| &= 5, \\ |x - 3| + |y - 1| &= 5, \\ |x + y - 4| &= |x - 3| + |y - 1|, \end{aligned}$$

gdje, zbog $x + y - 4 = x - 3 + y - 1$, moraju $x - 3$ i $y - 1$ biti istog predznaka.

5 bodova

Stoga sistem možemo zapisati u obliku

$$\begin{aligned} |x + y - 4| &= 5, \\ |x - 3| + |y - 1| &= 5, \\ (x - 3)(y - 1) &\geq 0. \end{aligned}$$

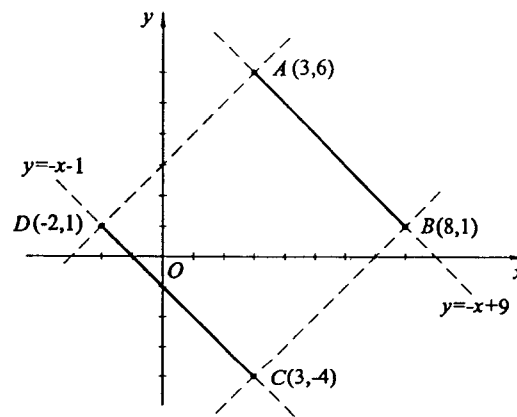
Ovaj sistem se svodi na sljedeća dva

$$\begin{array}{l} |x + y - 4| = 5, \\ |x - 3| + |y - 1| = 5, \\ x - 3 \geq 0, \\ y - 1 \geq 0; \end{array} \qquad \begin{array}{l} |x + y - 4| = 5, \\ |x - 3| + |y - 1| = 5, \\ x - 3 \leq 0, \\ y - 1 \leq 0, \end{array}$$

koja su ekvivalentna s

$$\begin{array}{l} x + y = 9, \\ x \geq 3, \\ y \geq 1, \end{array} \qquad \begin{array}{l} x + y = -1, \\ x \leq 3, \\ y \leq 1. \end{array}$$

10 bodova



U prvom slučaju zadovoljavaju točke $(x, 9 - x)$ za $x \in [3, 8]$,

tj. dio pravca $y = 9 - x$ unutar područja $x \geq 3$ i $y \geq 1$.

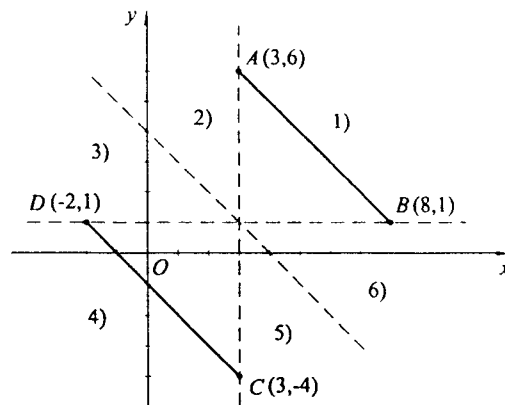
5 bodova

U drugom slučaju zadovoljavaju točke $(x, -1 - x)$ za $x \in [-2, 3]$,

tj. dio pravca $y = -1 - x$ unutar područja $x \leq 3$ i $y \leq 1$.

5 bodova

Drugo rješenje. Izrazi pod apsolutnom vrijednosti mijenjaju predznak kada je $x + y - 4 = 0$, $x - 3 = 0$, odnosno $y - 1 = 0$. Ta tri pravca dijele ravninu na šest područja (vidi sliku). Na svakom od njih rješavamo sustav linearnih jednačbi bez apsolutnih vrijednosti.



5 bodova

$$\begin{aligned} 1) \quad x + y - 4 = 5 & \Rightarrow x + y = 9, \\ x - 3 + y - 1 = 5 & \Rightarrow x + y = 9. \end{aligned}$$

Rješenje je dio pravca $x + y = 9$ unutar područja 1). tj. točke $(x, 9 - x)$ za $3 \leq x \leq 8$.

4 boda

$$\begin{aligned} 2) \quad x + y - 4 = 5 & \Rightarrow x + y = 9 & x = 3, \\ -x + 3 + y - 1 = 5 & \Rightarrow -x + y = 3 & y = 6. \end{aligned}$$

Točka $(3, 6)$ već je dobivena pod 1).

3 boda

$$\begin{aligned} 3) \quad -x - y + 4 = 5 & \Rightarrow x + y = -1 & x = -2, \\ -x + 3 + y - 1 = 5 & \Rightarrow -x + y = 3 & y = 1. \end{aligned}$$

Rješenje je točka $(-2, 1)$.

3 boda

$$\begin{aligned} 4) \quad -x - y + 4 = 5 & \Rightarrow x + y = -1, \\ -x + 3 - y + 1 = 5 & \Rightarrow x + y = -1. \end{aligned}$$

Rješenje je dio pravca $x + y = -1$ unutar područja 4). tj. točke $(x, -1 - x)$ za $-2 \leq x \leq 3$.

4 boda

$$\begin{aligned} 5) \quad -x - y + 4 = 5 & \Rightarrow x + y = -1 & x = 3, \\ x - 3 - y + 1 = 5 & \Rightarrow x - y = 7 & y = -4. \end{aligned}$$

Točku $(3, -4)$ već smo dobili pod 4).

3 boda

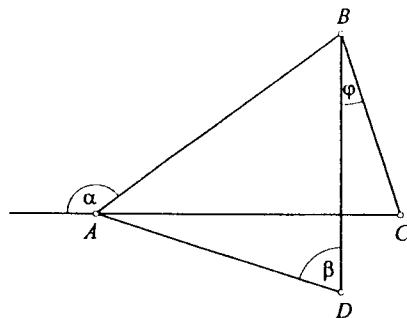
$$\begin{aligned} 6) \quad x + y - 4 = 5 & \Rightarrow x + y = 9 & x = 8, \\ x - 3 - y + 1 = 5 & \Rightarrow x - y = 7 & y = 1. \end{aligned}$$

Točku $(8, 1)$ već smo dobili pod 1).

3 boda

3. Sa slike se vidi da je $\sphericalangle BAC = 180^\circ - \alpha$, a kako je trokut ABC jednakokračan s bazom \overline{BC} ,

$$\sphericalangle ACB = \sphericalangle CBA = \frac{180^\circ - \sphericalangle BAC}{2} = \frac{\alpha}{2}. \quad 8 \text{ bodova}$$



Kako je trokut ABD jednakokračan s bazom \overline{AB} ,

$$\sphericalangle DBA = \sphericalangle BAD = \frac{180^\circ - \beta}{2}. \quad 8 \text{ bodova}$$

Oдавde slijedi,

$$\varphi = \sphericalangle CBD = \sphericalangle CBA - \sphericalangle DBA = \frac{\alpha}{2} - \frac{180^\circ - \beta}{2} = \frac{\alpha + \beta}{2} - 90^\circ = 10^\circ. \quad 9 \text{ bodova}$$

4. *Prvo rješenje.* Najprije ćemo dani broj faktorizirati:

$$\begin{aligned} n^3 + 3n^2 - n - 3 &= n^2(n + 3) - (n + 3) \\ &= (n + 3)(n^2 - 1) \\ &= (n - 1)(n + 1)(n + 3). \end{aligned}$$

10 bodova

Kako su brojevi $n - 1$, $n + 1$ i $n + 3$ parni, i jedan od brojeva $n - 1$ i $n + 1$ je djeljiv s 4, zaključujemo da je dani broj djeljiv sa 16.

8 bodova

Ako je n djeljiv s 3, onda je i $n + 3$ djeljiv s 3. Ako n nije djeljiv s 3, onda on pri dijeljenju s 3 daje ostatke 1 ili -1 , pa je jedan od brojeva $n - 1$ i $n + 1$ djeljiv s 3.

5 bodova

Oдавde zaključujemo da je dani broj djeljiv sa $16 \cdot 3 = 48$.

2 boda

Drugo rješenje. Broj n je neparan, pa ga možemo napisati u obliku $n = 2k - 1$, za neki prirodan broj k .

1 bod

Uvrstimo ovo u dani izraz:

$$\begin{aligned} & (2k - 1)^3 + 3(2k - 1)^2 - (2k - 1) - 3 \\ &= 8k^3 - 8k = 8k(k^2 - 1) = 8k(k - 1)(k + 1). \end{aligned}$$

Jedan od faktora $k - 1$, k , $k + 1$ je djeljiv s 3,

12 bodova

i bar jedan od $k - 1$, k je paran.

5 bodova

Stoga je produkt djeljiv s $8 \cdot 3 \cdot 2 = 48$.

5 bodova

2 bodova

MATEMATIKA

Zadaci za općinsko-gradsko natjecanje učenika
srednjih škola Republike Hrvatske

1. ožujka 2001.

2002.

II. razred

1. Neka je K polovište hipotenuze \overline{AB} pravokutnog trokuta ABC i M točka na kateti \overline{BC} , takva da je $|BM| = 2|MC|$. Dokažite da je $\sphericalangle MAB = \sphericalangle MKC$.
2. Ako su a i b realni brojevi, različiti od nule, nađite sva rješenja jednadžbe

$$\frac{1}{a} + \frac{1}{b} + \frac{1}{x} = \frac{1}{a+b+x}.$$

3. Ako je $ax^3 = by^3 = cz^3$ i $\frac{1}{x} + \frac{1}{y} + \frac{1}{z} = 1$, dokažite jednakost

$$\sqrt[3]{ax^2 + by^2 + cz^2} = \sqrt[3]{a} + \sqrt[3]{b} + \sqrt[3]{c}.$$

4. Neka su a, b, c, d cijeli brojevi. Dokaži da je produkt razlika $b-a, c-a, d-a, c-b, d-b, c-d$ djeljiv s 12.

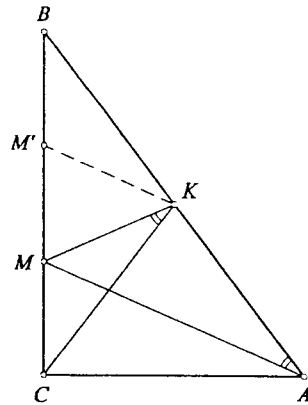
Rješenja zadataka za II. razred.

Svaki točno riješen zadatak vrijedi 25 bodova.

1. *Prvo rješenje.* Neka je M' točka na BC takva da je $|BM'| = |M'M| = |MC|$. Uočimo da je $\triangle MKC \cong \triangle M'KB$, pa je

$$\sphericalangle MKC = \sphericalangle M'KB.$$

15 bodova



S druge strane je $M'K \parallel MA$ jer je $M'K$ srednjica trokuta BMA , pa je $\sphericalangle M'KB = \sphericalangle MAB$.

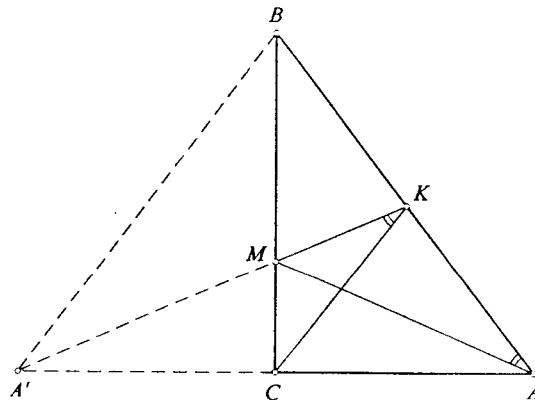
5 bodova

5 bodova

(Može se reći i $\triangle MAB \sim \triangle M'KB$ s koeficijentom $\frac{1}{2}$.)

Drugo rješenje. Neka je A' točka na pravcu AC takva da je $|A'C| = |AC|$. Trokut $A'AB$ je jednakokračan s vrhom B . Stoga je \overline{BC} njegova težišnica i točka M težište. Zato i težišnica $\overline{A'K}$ prolazi kroz M .

10 bodova



\overline{CK} je srednjica trokuta $AA'B$, pa je $CK \parallel A'B$, te je stoga

$$\sphericalangle CKM = \sphericalangle MA'B,$$

5 bodova

a taj je kut zbog simetrije u odnosu na pravac BC jednak $\sphericalangle MAB$.

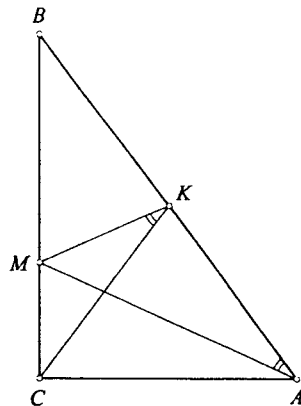
5 bodova

Stoga je $\sphericalangle CKM = \sphericalangle MAB$, što je i trebalo dokazati.

5 bodova

Treće rješenje. Uočimo najprije da je $|CK| = \frac{1}{2}|AB| = |BK|$,
tj. trokut CBK je jednakokračan, pa je

$$\sphericalangle BCK = \sphericalangle CBK, \quad \text{tj.} \quad \sphericalangle KCM = \sphericalangle ABM. \quad 10 \text{ bodova}$$



Nadalje,

$$\frac{|MC|}{|MB|} = \frac{1}{2} = \frac{|CK|}{|AB|}. \quad 5 \text{ bodova}$$

Odavde slijedi da je $\triangle BMA \sim \triangle CMK$.

5 bodova

Zato je $\sphericalangle BAM = \sphericalangle MKC$.

5 bodova

2. Sređivanjem ove jednadžbe dobivamo

$$\frac{(a+b)x + ab}{abx} = \frac{1}{a+b+x},$$

$$(a+b)x^2 + (a+b)^2x + (a+b)ab = 0.$$

10 bodova

Ako je $b = -a$, zadovoljava svaki $x \neq 0$.

5 bodova

Za $b \neq -a$ je

$$x^2 + (a+b)x + ab = 0,$$

$$(x+a)(x+b) = 0,$$

odakle je $x \in \{-a, -b\}$.

10 bodova

3. Uz uvjete

$$ax^3 = by^3 = cz^3, \quad (1)$$

$$\frac{1}{x} + \frac{1}{y} + \frac{1}{z} = 1, \quad (2)$$

redom dobivamo

$$\begin{aligned} A &= \sqrt[3]{ax^2 + by^2 + cz^2} = \sqrt[3]{\frac{ax^3}{x} + \frac{by^3}{y} + \frac{cz^3}{z}} \\ &= \sqrt[3]{ax^3 \left(\frac{1}{x} + \frac{1}{y} + \frac{1}{z} \right)} = \sqrt[3]{ax^3} = x\sqrt[3]{a}. \end{aligned}$$

10 bodova

Zbog (1) je i $A = y\sqrt[3]{b} = z\sqrt[3]{c}$, pa je

$$\sqrt[3]{a} = \frac{A}{x}, \quad \sqrt[3]{b} = \frac{A}{y}, \quad \sqrt[3]{c} = \frac{A}{z}, \quad 5 \text{ bodova}$$

odakle je

$$\begin{aligned} \sqrt[3]{a} + \sqrt[3]{b} + \sqrt[3]{c} &= \frac{A}{x} + \frac{A}{y} + \frac{A}{z} \\ &= A \left(\frac{1}{x} + \frac{1}{y} + \frac{1}{z} \right) \\ &= A = \sqrt[3]{ax^2 + by^2 + cz^2}, \end{aligned}$$

čime je dokaz završen.

10 bodova

4. Budući da je $12 = 4 \cdot 3$, dovoljno je pokazati da je produkt djeljiv s 4 i s 3.

5 bodova

Ako ima više od dva broja iste parnosti, onda su sve razlike tih brojeva parne, a ima ih barem 3. Tada je produkt djeljiv s 8. Ako su dva broja parna i dva neparna, onda su dvije njihove razlike parne i produkt je djeljiv s 4.

10 bodova

Promatrajmo ostatke pri dijeljenju četiri dana broja s 3. Sigurno postoje dva koja imaju isti ostatak. Njihova razlika je djeljiva s 3.

10 bodova

MINISTARSTVO PROSVJETE I ŠPORTA REPUBLIKE HRVATSKE

HRVATSKO MATEMATIČKO DRUŠTVO

MATEMATIKA

Zadaci za općinsko-gradsko natjecanje učenika
srednjih škola Republike Hrvatske

1. ožujka 2001.
2002.

III. razred

1. Riješite jednadžbu

$$\log_3 \frac{1}{\sqrt{\log_3 x}} = \log_9 \log_9 \frac{x}{3}.$$

2. Dvije se kružnice dodiruju izvana u točki T . Jedna vanjska zajednička tangenta dodiruje te kružnice u točkama A i B , a \overline{BC} je promjer kružnice na kojoj leži točka B . Dokažite da se točka T nalazi na dužini \overline{AC} .

3. Ako je $\alpha + \beta + \gamma = \pi$, dokažite sljedeći trigonometrijski identitet

$$\sin \alpha + \sin \beta + \sin \gamma = 4 \cos \frac{\alpha}{2} \cos \frac{\beta}{2} \cos \frac{\gamma}{2}.$$

4. Neka je H sjecište visina šiljastokutnog trokuta ABC . Dokažite da je $|BC| \cdot \operatorname{ctg} \sphericalangle CAB = |AH|$.

Rješenja zadataka za III. razred.

Svaki točno riješen zadatak vrijedi 25 bodova.

1. Da bi jednadžba imala smisla mora biti

$$x > 0, \log_3 x > 0, \log_9 \frac{x}{3} > 0 \Rightarrow x > 0, x > 1, x > 3. \quad 5 \text{ bodova}$$

Tada je

$$\log_3 \frac{1}{\sqrt{\log_3 x}} = \log_3 \left(\log_9 \frac{x}{3} \right)^{1/2},$$

$$\frac{1}{\sqrt{\log_3 x}} = \sqrt{\frac{1}{2} \log_3 \frac{x}{3}} \quad /^2,$$

$$\frac{1}{\log_3 x} = \frac{1}{2} (\log_3 x - 1).$$

$$(\log_3 x)^2 - \log_3 x - 2 = 0. \quad 15 \text{ bodova}$$

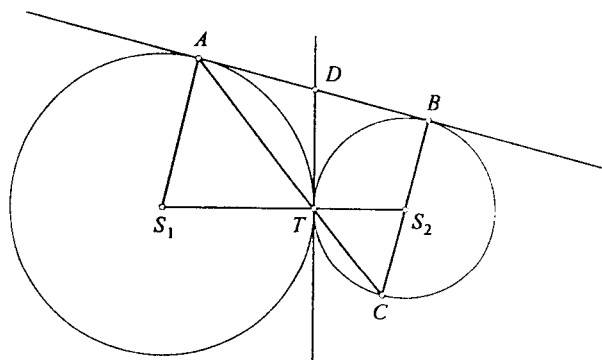
$$\log_3 x = 2 \Rightarrow x = 9.$$

$$\log_3 x = -1 \text{ ne zadovoljava.}$$

5 bodova

2. *Prvo rješenje.* Budući da je \overline{BC} promjer kružnice, trokut BTC je pravokutan, tj. $\sphericalangle BTC = 90^\circ$.
Dovoljno je pokazati da je $\sphericalangle ATB = 90^\circ$.

5 bodova



Označimo s D sjecište zajedničke tangente tih dviju kružnica u točki T i dužine \overline{AB} . Zbog $|AD| = |DT| = |BD|$, imamo

$$\alpha = \sphericalangle DAT = \sphericalangle DTA \quad \text{i} \quad \beta = \sphericalangle DBT = \sphericalangle DTB,$$

a odavde je $\sphericalangle ATB = \alpha + \beta$.

15 bodova

Suma kutova u trokutu ATB je $\alpha + \beta + (\alpha + \beta) = 180^\circ$.

tj. $\alpha + \beta = 90^\circ$.

5 bodova

Drugo rješenje. Trokuti AS_1T i CS_2T su jednakoračni. Kako je $\sphericalangle BAS_1 = \sphericalangle ABS_2 = 90^\circ$, slijedi

$$\sphericalangle AS_1S_2 + \sphericalangle S_1S_2B = 180^\circ$$

(suma kutova u četverokutu),
pa je

10 bodova

$$\sphericalangle CS_2T = 180^\circ - \sphericalangle BS_2T = \sphericalangle AS_1T.$$

Stoga su trokuti AS_1T i CS_2T slični, pa je i $\sphericalangle ATS_1 = \sphericalangle CTS_2$.
Odavde slijedi da su točke A , C i T kolinearne (jer su S_1 , S_2 i T kolinearne).

10 bodova

5 bodova

3. Prvo rješenje.

$$\begin{aligned} \sin \alpha + \sin \beta + \sin \gamma &= (\sin \alpha + \sin \beta) + \sin(\alpha + \beta) \\ &= 2 \sin \frac{\alpha + \beta}{2} \cos \frac{\alpha - \beta}{2} + 2 \sin \frac{\alpha + \beta}{2} \cos \frac{\alpha + \beta}{2} \\ &= 2 \sin \frac{\alpha + \beta}{2} \left(\cos \frac{\alpha - \beta}{2} + \cos \frac{\alpha + \beta}{2} \right) \\ &= 4 \cos \frac{\alpha}{2} \cos \frac{\beta}{2} \sin \frac{\pi - \gamma}{2} \\ &= 4 \cos \frac{\alpha}{2} \cos \frac{\beta}{2} \cos \frac{\gamma}{2}. \end{aligned}$$

25 bodova

Drugo rješenje.

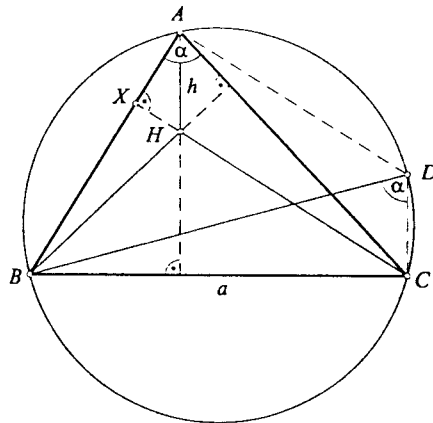
$$\begin{aligned}
 \sin \alpha + \sin \beta + \sin \gamma &= \sin \alpha + \sin \beta + \sin[\pi - (\alpha + \beta)] \\
 &= \sin \alpha + \sin \beta + \sin(\alpha + \beta) \\
 &= \sin \alpha + \sin \beta + \sin \alpha \cos \beta + \cos \alpha \sin \beta \\
 &= \sin \alpha(1 + \cos \beta) + \sin \beta(1 + \cos \alpha) \\
 &= 2 \sin \alpha \cos^2 \frac{\beta}{2} + 2 \sin \beta \cos^2 \frac{\alpha}{2} \\
 &= 4 \sin \frac{\alpha}{2} \cos \frac{\alpha}{2} \cos^2 \frac{\beta}{2} + 4 \sin \frac{\beta}{2} \cos \frac{\beta}{2} \cos^2 \frac{\alpha}{2} \\
 &= 4 \cos \frac{\alpha}{2} \cos \frac{\beta}{2} \left(\sin \frac{\alpha}{2} \cos \frac{\beta}{2} + \cos \frac{\alpha}{2} \sin \frac{\beta}{2} \right) \\
 &= 4 \cos \frac{\alpha}{2} \cos \frac{\beta}{2} \sin \frac{\alpha + \beta}{2} \\
 &= 4 \cos \frac{\alpha}{2} \cos \frac{\beta}{2} \sin \left(\frac{\pi}{2} - \frac{\gamma}{2} \right) \\
 &= 4 \cos \frac{\alpha}{2} \cos \frac{\beta}{2} \cos \frac{\gamma}{2}.
 \end{aligned}$$

25 bodova

Napomena. Mogu se dati i djelomični bodovi prema procjeni ocjenjivača.

4. *Prvo rješenje.* Koristimo oznake kao na slici. Neka je \overline{BD} promjer trokutu ABC opisane kružnice. Prema Talesovom poučku je $\sphericalangle BCD = \sphericalangle BAD = 90^\circ$. Pravac CH je okomit na stranicu \overline{AB} (jer je H sjecište visina trokuta ABC). Zato je $CH \parallel DA$. Iz istog razloga je $AH \parallel DC$. Zaključujemo da je četverokut $AHCD$ paralelogram, zbog čega je $|DC| = |AH|$.

15 bodova



Nadalje je $\sphericalangle CDB = \sphericalangle CAB = \alpha$, jer su to kutovi nad istim lukom \widehat{BC} . Iz pravokutnog trokuta BCD imamo:

$$\operatorname{ctg} \alpha = \frac{|DC|}{|BC|} = \frac{|AH|}{|BC|} = \frac{h}{a}$$

odakle je $h = a \cdot \operatorname{ctg} \alpha$, što je i trebalo dokazati.

10 bodova

Drugo rješenje.

$$\begin{aligned} |BC| \operatorname{ctg} \alpha &= \frac{|BC| \cos \alpha}{\sin \alpha} \\ &= \frac{|CX| \cos \alpha}{\sin \alpha \sin \beta} \\ &= \frac{|AC| \cos \alpha}{\sin \beta} \\ &= \frac{|AX|}{\sin \beta} = |AH|. \end{aligned}$$

Posljednja jednakost vrijedi jer je $\sphericalangle AHX = \sphericalangle CBA = \beta$, (kutovi s okomitim kracima).

25 bodova

MATEMATIKA

Zadaci za općinsko-gradsko natjecanje učenika
srednjih škola Republike Hrvatske

1. ožujka ~~2001.~~
2002.

IV. razred

1. Nađite geometrijsko mjesto točaka iz kojih se na elipsu $b^2x^2 + a^2y^2 = a^2b^2$ mogu povući dvije uzajamno okomite tangente.
2. Na krakovima šiljastog kuta α s vrhom A dane su točke D i E , tako da je $|AD| = m$ i $|AE| = n$. U točkama D i E povučene su okomice na krakove kuta na kojima leže. Ako se te dvije okomice sijeku u točki F u unutrašnjosti kuta, dokažite da je

$$\frac{|DF|}{|EF|} = \frac{n - m \cos \alpha}{m - n \cos \alpha}.$$

3. Nađite sva realna rješenja sistema jednažbi

$$x_1 + x_2 + \dots + x_{2002} = 2002.$$

$$x_1^4 + x_2^4 + \dots + x_{2002}^4 = x_1^3 + x_2^3 + \dots + x_{2002}^3.$$

4. Prvi član aritmetičkog niza (a_n) , kojem su svi članovi prirodni brojevi, je $a_1 = 1$. Broj $4 = 2^2$ jest, a 2 nije član tog niza.
 - a) Dokažite da postoji jedan i samo jedan takav niz. Napišite njegov opći član.
 - b) Pokažite da je kvadrat svakog prirodnog broja, koji nije djeljiv s 3 , član tog niza.
 - c) Provjerite da su brojevi 2002 i 2002^2 članovi tog niza. Odredite njihove indekse.
 - d) Obrazložite zaključak: kvadrat svakog člana niza je član tog niza. Vrijedi li obrat, tj. ako je kvadrat nekog broja član tog niza, je li i taj broj član niza.

Rješenja zadataka za IV. razred.Svaki točno riješen zadatak vrijedi 25 bodova.

1. *Prvo rješenje.* Pravac $y = kx + l$ je tangenta ellipse $b^2x^2 + a^2y^2 = a^2b^2$ ako je $k^2a^2 + b^2 = l^2$. Njezina je jednadžba

$$y = kx + \sqrt{a^2k^2 + b^2}. \quad (1) \quad 5 \text{ bodova}$$

Pravac $y = -\frac{1}{k}x + l_1$ je okomit na prethodni pravac i bit će tangenta na danu elipsu ako je $\frac{1}{k^2}a^2 + b^2 = l_1^2$. Njezina jednadžba je

$$y = -\frac{1}{k}x + \frac{1}{k}\sqrt{a^2 + k^2b^2}. \quad (2) \quad 5 \text{ bodova}$$

Riješimo li sistem jednadžbi (1) i (2), dobivamo

$$x = \frac{\sqrt{a^2 + k^2b^2} - k\sqrt{k^2a^2 + b^2}}{k^2 + 1}, \quad y = \frac{\sqrt{k^2a^2 + b^2} + k\sqrt{a^2 + k^2b^2}}{k^2 + 1}. \quad 8 \text{ bodova}$$

Odavde kvadriranjem i zbrajanjem lijevih i desnih strana, dobivamo

$$x^2 + y^2 = a^2 + b^2. \quad 7 \text{ bodova}$$

Dakle tražemo geometrijsko mjesto točaka je kružnica sa središtem u ishodištu polumjera $r = \sqrt{a^2 + b^2}$.

Drugo rješenje. Neka je (x_0, y_0) točka iz koje se na danu elipsu mogu povući dvije međusobno okomite tangente. Jedna od njih neka ima jednadžbu $y = kx + l$. Vrijedi, $y_0 = kx_0 + l$ tj. $l = y_0 - kx_0$. Zbog uvjeta tangencijalnosti imamo 5 bodova

$$a^2k^2 + b^2 = l^2 \quad \text{tj.} \quad a^2k^2 + b^2 = (y_0 - kx_0)^2.$$

Ovo je kvadratna jednadžba po k :

$$(a^2 - x_0^2)k^2 + 2x_0y_0k + b^2 - y_0^2 = 0. \quad 5 \text{ bodova}$$

Drugo rješenje ove jednadžbe je koeficijent smjera druge tangente iz točke (x_0, y_0) na elipsu, pa rješenja k_1 i k_2 ove kvadratne jednadžbe moraju zadovoljavati uvjet $k_1k_2 = -1$. 8 bodova

Prema Vièteovoj formuli je

$$k_1k_2 = \frac{b^2 - y_0^2}{a^2 - x_0^2},$$

i te će tangente na elipsu povučene iz točke (x_0, y_0) biti okomite ako je

$$\frac{b^2 - y_0^2}{a^2 - x_0^2} = -1,$$

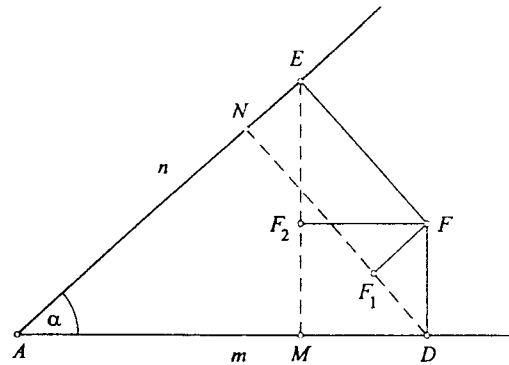
tj. ako je $x_0^2 + y_0^2 = a^2 + b^2$. 7 bodova

Točke s traženim svojstvom su točke kružnice $x^2 + y^2 = a^2 + b^2$.

2. *Prvo rješenje.* Neka su M i N nožišta okomica iz E i D na krakove kuta. Iz F spustimo okomice FF_1 i FF_2 na DN i EM . Tada iz pravokutnih trokuta FF_1D i EFF_2 zbog

$$\sphericalangle FDF_1 = \sphericalangle FEF_2 = \alpha$$

5 bodova



imamo

$$|DF| \sin \alpha = |FF_1| = |EN|,$$

$$|EF| \sin \alpha = |FF_2| = |MD|,$$

10 bodova

pa je

$$\frac{|DF|}{|EF|} = \frac{|EN|}{|MD|} = \frac{|AE| - |AN|}{|AD| - |AM|} = \frac{n - m \cos \alpha}{m - n \cos \alpha}.$$

10 bodova

3. Prvu jednadžbu možemo zapisati u obliku:

$$(x_1 - 1) + (x_2 - 1) + \dots + (x_{2002} - 1) = 0, \quad 5 \text{ bodova}$$

a drugu:

$$x_1^3(x_1 - 1) + x_2^3(x_2 - 1) + \dots + x_{2002}^3(x_{2002} - 1) = 0. \quad 5 \text{ bodova}$$

Oduzimanjem posljednjih dviju slijedi:

$$(x_1^3 - 1)(x_1 - 1) + (x_2^3 - 1)(x_2 - 1) + \dots + (x_{2002}^3 - 1)(x_{2002} - 1) = 0$$

tj.

$$(x_1 - 1)^2(x_1^2 + x_1 + 1) + \dots + (x_{2002} - 1)^2(x_{2002}^2 + x_{2002} + 1) = 0. \quad 5 \text{ bodova}$$

Kako je za svaki realan broj x , $x^2 + x + 1 > 0$, mora biti $x_k = 1$, za $1 \leq k \leq 2002$. Lako se provjeri da je ovo zaista rješenje. 10 bodova

Napomena. Učenik koji samo uoči da je rješenje $x_1 = \dots = x_n = 1$ dobija 5 bodova.

4. a) Svi članovi niza su prirodni brojevi, pa je i razlika d prirodan broj, i to 1, 2 ili 3 (ako je $d \geq 4$ onda je $a_2 = 1 + d \geq 5$, pa 4 ne bi bio član tog niza).

Za $d = 1$ broj 2 bi bio član niza, a za $d = 2$ broj 4 ne bi bio član niza. Ostaje samo mogućnost $d = 3$. Opći član niza je $a_n = 1 + 3(n - 1) = 3n - 2$. 5 bodova

b) Svaki prirodan broj koji nije djeljiv s 3 je oblika $3k \pm 1$, $k \in \mathbf{N}_0$. Za kvadrat tog broja vrijedi

$$(3k \pm 1)^2 = 9k^2 \pm 6k + 1 = 3(3k^2 \pm 2k + 1) - 2 = 3m - 2,$$

gdje je $m = 3k^2 \pm 2k + 1$ očito prirodan broj. Zato je $(3k \pm 1)^2$ m -ti član niza. 7 bodova

c) Iz $3n - 2 = 2002 = 3 \cdot 668 - 2$ slijedi $a_{668} = 2002$. a iz $3n - 2 = 2002^2 = 3 \cdot 1\,336\,002 - 2$ je $a_{1\,336\,002} = 2002^2$. 5 bodova

d) Svaki se član niza može napisati u obliku

$$a_n = 3n - 2 = 3(n - 1) + 1 = 3k + 1, \quad k = n - 1, \quad k \in \mathbf{N}_0.$$

U b) je dokazano da je kvadrat svakog broja oblika $3k + 1$ član niza. To znači da je i broj a_n^2 član niza. 6 bodova

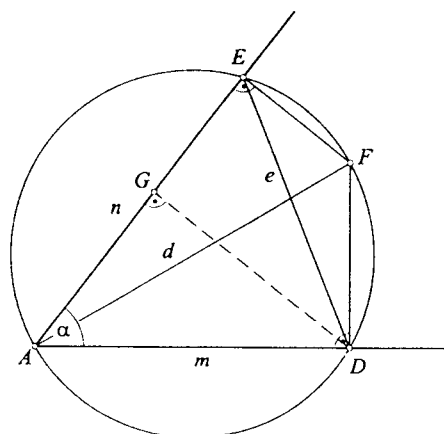
Obrat ne vrijedi, jer kvadrati prirodnih brojeva koji su članovi niza su oblika $(3k \pm 1)^2$, a članovi niza su (samo) $a_n = 3n - 2 = 3k + 1$. dok brojevi oblika $3k - 1$ nisu članovi niza. Tako, na primjer, broj $25 = 5^2 = 3 \cdot 9 - 2$ jest (deveti) član niza, a broj 5 nije član niza. 2 boda

Drugo rješenje. Četverokut $ADFE$ je tetivan, jer je $\sphericalangle ADF = \sphericalangle AEF = 90^\circ$, pri čemu je $d = |AF|$ duljina promjera pripadne kružnice. Budući da je ta kružnica ujedno i kružnica opisana trokutu ADE , to je, prema poučku o sinusima, $e = |DE| = d \sin \alpha$.
Dalje je:

5 bodova

$$\begin{aligned} |DF|^2 &= d^2 - m^2 = \frac{e^2}{\sin^2 \alpha} - m^2 = \frac{m^2 + n^2 - 2mn \cos \alpha}{\sin^2 \alpha} - m^2 \\ &= \frac{m^2(1 - \sin^2 \alpha) + n^2 - 2mn \cos \alpha}{\sin^2 \alpha} \\ &= \frac{m^2 \cos^2 \alpha + n^2 - 2mn \cos \alpha}{\sin^2 \alpha} \\ &= \frac{(n - m \cos \alpha)^2}{\sin^2 \alpha} \Rightarrow |DF| = \left| \frac{n - m \cos \alpha}{\sin \alpha} \right|. \end{aligned}$$

10 bodova



Ako je G nožište okomice iz točke D na drugi krak kuta. Tada je $|AG| < |AE|$, ili $m \cos \alpha < n$. Isto tako je $\sin \alpha > 0$. Zbog svega toga je

$$|DF| = \frac{n - m \cos \alpha}{\sin \alpha}.$$

Potpuno istim računom se dobije

$$|EF| = \frac{m - n \cos \alpha}{\sin \alpha}.$$

8 bodova

Konačno je

$$\frac{|DF|}{|EF|} = \frac{n - m \cos \alpha}{m - n \cos \alpha}.$$

2 bodova